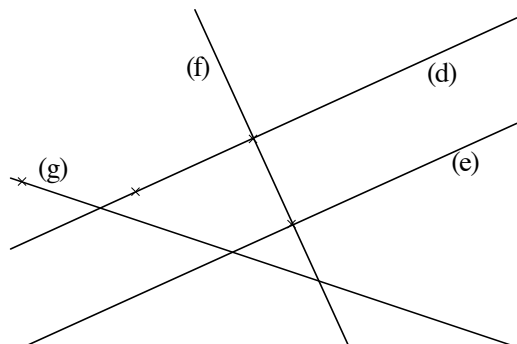


Nom :

Prénom :CLA

Interrogation écrite

Exercice 1 : 1) Code les angles droits de la figure.
2) Complète les phrases.



Les(f) et (e) sont

.....

Les(g) et (e) sont

.....

Les(d) et (e) sont

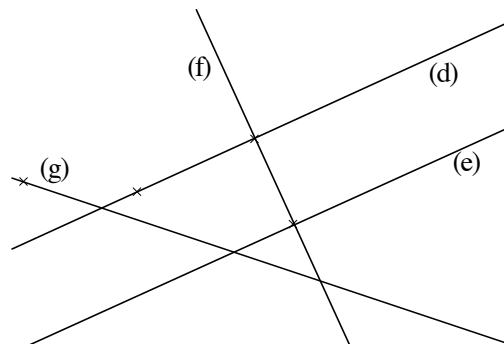
.....

Nom :

Prénom :CLA

Interrogation écrite

Exercice 1 : 1) Code les angles droits de la figure.
2) Complète les phrases.



Les(f) et (e) sont

.....

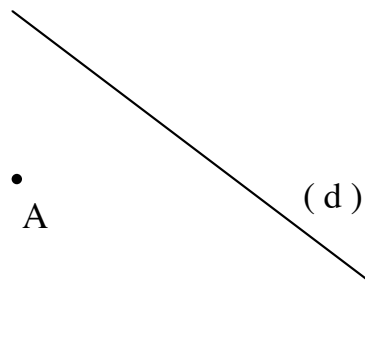
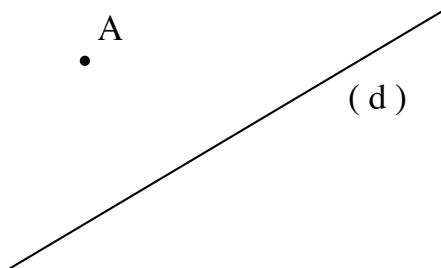
Les(g) et (e) sont

.....

Les(d) et (e) sont

.....

Exercice 2 : Dans chaque cas, trace la droite perpendiculaire à (d) qui passe par A.



Exercice 2 : Dans chaque cas, trace la droite perpendiculaire à (d) qui passe par A.

